

四天王寺高等学校

入学試験問題

社会

平成24年度



- 1 下にあげた国について、それぞれの問いに答えなさい。

1 ベルギー	2 エジプト	3 ウクライナ
4 インドネシア	5 イタリア	6 アルゼンチン

- 問1 1～6の首都名をそれぞれ答え、その都市の気候を示したものを下の表から選び、それぞれA～Fの記号で答えなさい。

	1月	2月	3月	4月	5月	6月	7月	8月	9月	10月	11月	12月	全年
A	3.1 71.3	3.5 53.1	6.4 72.9	9.0 53.8	13.3 70.2	15.8 78.5	17.9 71.4	17.8 62.1	14.5 63.2	10.7 68.1	6.3 79.5	4.1 78.7	10.2 823.0
B	24.6 125.7	23.3 119.0	21.7 120.5	17.7 107.5	14.6 87.5	11.5 65.8	11.1 66.6	12.6 67.4	14.5 74.7	17.5 119.5	20.2 107.5	23.4 101.0	17.7 1162.5
C	-4.3 40.2	-3.3 32.8	1.6 34.3	9.0 48.4	15.2 52.5	18.4 75.5	19.5 81.7	19.0 53.4	13.9 60.3	7.9 36.6	1.5 47.9	-2.0 44.2	8.0 607.8
D	14.0 5.3	15.2 4.3	17.6 5.2	21.8 1.4	24.7 0.2	27.4 0.0	28.0 0.0	27.9 0.0	26.4 0.0	24.0 0.2	19.1 2.7	15.0 7.3	21.8 26.7
E	8.4 74.0	9.0 73.9	10.9 60.7	13.2 60.0	17.2 33.5	21.0 21.4	23.9 8.5	24.0 32.7	21.1 74.4	16.9 98.2	12.1 93.3	9.4 86.3	15.6 716.9
F	26.4 402.8	26.7 279.5	27.1 226.2	27.9 125.8	28.1 128.1	27.7 100.6	27.5 54.4	27.6 69.2	27.8 61.9	27.9 111.1	27.6 126.4	27.1 217.2	27.4 1903.4


(『理科年表』より作成)

- 問2 1～6のうち、隣国の南部の州が2011年7月に分離独立した国を1つ選び、その国を1～6の番号で答えなさい。

- 問3 1～6の国について書かれた下の文章のうち、誤っているものを1つ選び、あ～えの記号で答えなさい。

- あ これらの国の首都のうち、もっとも緯度が低いのは4の国の首都である。
 い これらの国の首都のうち、日本からもっとも遠い場所にあるのは6の国の首都である。
 う これらの国のなかに、内陸国はひとつも存在しない。
 え これらの国のなかで、日本より面積が大きい国は1か国のみである。

- 問4 1～6の国のうち、現在、日本がこの写真の食材をもっとも多く輸入している国を1つ選び、1～6の番号で答えなさい。



② 日本の地理に関する問いに答えなさい。

問1 下の文章を読んで、(1)～(4)の問いに答えなさい。

日本は、環太平洋造山帯に属し、山脈・山地や高地・丘陵地が多く、①大規模な噴火活動をともしう火山もたくさんあります。一方、日本の②平野(低地と台地)は、主に河川の堆積作用によって形成され、その面積は、国土面積の約(A)%にすぎません。

日本は、南北の緯度差が最大で約(B)度もあり、札幌と那覇の年間平均気温の差が約(C)度になります。また、日本海側と太平洋側で気候の特徴が大きく変わります。冬の日本海側には、③日本海の暖流上で湿気を多く含んだ(D)からの季節風が吹きつけます。そのため、曇りの日が多くなり、大雪になることもあります。しかし、山脈を越えると乾燥した風となり、太平洋側では晴天の日が続きます。

(1) 文中の(A)～(D)にあてはまる数値・語句をそれぞれ選び、あ～えの記号で答えなさい。

(A) あー10 いー15 うー20 えー25

(B) あー5 いー15 うー25 えー35

(C) あー9 いー14 うー19 えー24

(D) あー北東 いー北西 うー南東 えー南西

(2) 下線部①に関して、2011年1月に九州の新燃岳が噴火しました。新燃岳の位置を図1のあ～えから1つ選び、記号で答えなさい。



図1

(3) 下線部②に関して、次の表の[a]・[b]にあてはまる語を答え、[c]～[e]にあてはまる語を【語群】からそれぞれ選び、あ～かの記号で答えなさい。

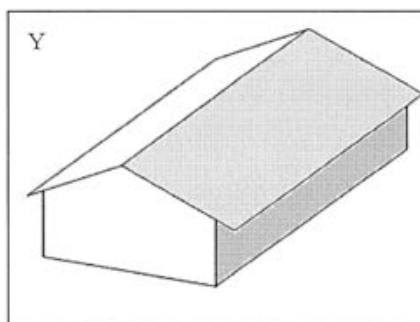
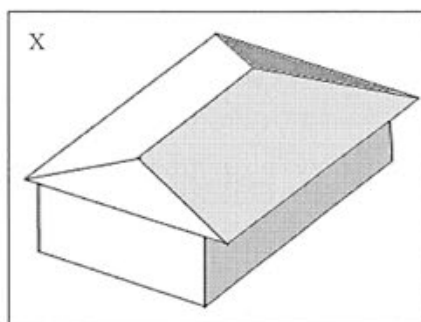
平野	平野を形成する主な河川	平野の位置する都道府県
大阪平野	淀川など	大阪府
広島平野	[c] 川など	広島県
[a] 平野	筑後川・菊池川など	福岡県・熊本県・佐賀県
越後平野	[d] 川・阿賀野川など	新潟県
仙台平野	[e] 川・阿武隈川など	宮城県
[b] 平野	最上川など	山形県

【語群】 あ 雄物 い 吉野 う 北上 え 揖斐 お 信濃 か 太田

(4) 下線部③の海流を答えなさい。

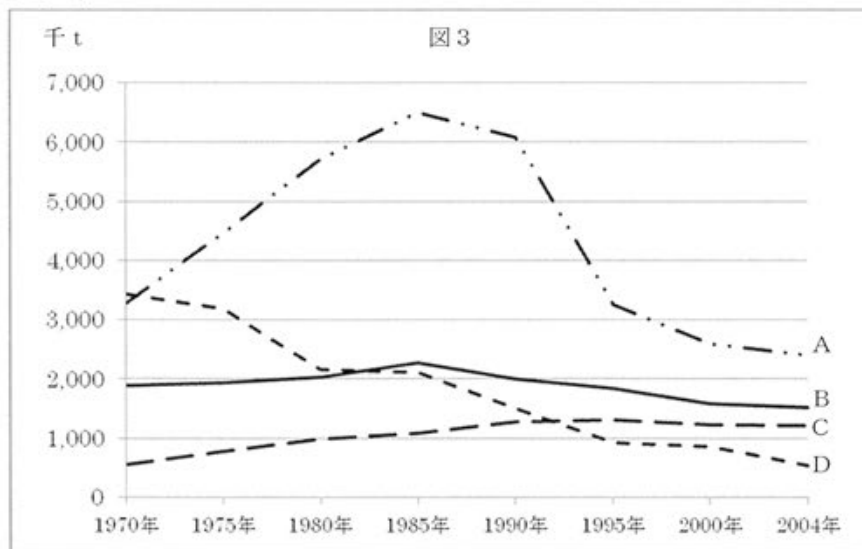
問2 図2の屋根の名称の組み合わせとして正しいものを1つ選び、あ～かの記号で答えなさい。

図2



- | | | | | | |
|---|-------|------|---|-------|-------|
| あ | X-切妻 | Y-寄棟 | い | X-切妻 | Y-入母屋 |
| う | X-寄棟 | Y-切妻 | え | X-寄棟 | Y-入母屋 |
| お | X-入母屋 | Y-切妻 | か | X-入母屋 | Y-寄棟 |




問3 図3は、日本の漁獲量を漁業部門別に示したものです。A～Dは、遠洋漁業・沖合漁業・沿岸漁業・海面養殖業のいずれかにあてはまります。その組み合わせとして正しいものを1つ選び、あ～かの記号で答えなさい。



(総務省統計局の統計より作成)

- | | | | | | |
|---|--------|---------|---|---------|---------|
| あ | A-遠洋漁業 | B-沿岸漁業 | い | B-沿岸漁業 | C-沖合漁業 |
| う | A-沖合漁業 | C-海面養殖業 | え | A-海面養殖業 | D-遠洋漁業 |
| お | C-沖合漁業 | D-遠洋漁業 | か | B-沖合漁業 | D-海面養殖業 |

問4 次の①～③の人口ピラミッド（性別年齢別人口構成グラフ）は、日本全体・島根県能義郡・東京23区のもので。その組み合わせとして正しいものを1つ選び、あ～かの記号で答えなさい。



総務省統計局（平成17年）
島根県（平成13年）
東京都（平成17年）の統計より作成

- | | | |
|------------|----------|----------|
| あ ①－日本全体 | ②－東京23区 | ③－島根県能義郡 |
| い ①－日本全体 | ②－島根県能義郡 | ③－東京23区 |
| う ①－東京23区 | ②－日本全体 | ③－島根県能義郡 |
| え ①－東京23区 | ②－島根県能義郡 | ③－日本全体 |
| お ①－島根県能義郡 | ②－日本全体 | ③－東京23区 |
| か ①－島根県能義郡 | ②－東京23区 | ③－日本全体 |

3 次の文章および図を参照し、問いに答えなさい。

- A 山寺山をのぼる細い道の近くまで来て、赤土の断面に目を向けたとき、①私はそこに見なれないものが、半ば突き刺さるような状態で見えているのに気がついた。近寄って指をふれてみた。指先で少し動かしてみた。ほんの少し赤土がくずれただけでそれはすぐ取れた。それを目の前に見たとき、私はわれとわが目を疑った。(中略)ただぼう然として見つめるばかりだった。「②ついに見つけた！それも(中略)③この赤土の中に！」(中略)④このときの感激こそ、私の生涯忘れることのできないものであった。
(『⑤岩宿の発見』より)

問1 文中の下線部①の名前をフルネームで答えなさい。

問2 文中の下線部②について、「私」が見つけたものとして適当なものを次から1つ選び、あ～えの記号で答えなさい。

あ



い



う



え



問3 文中の下線部③の地層が形成された頃の日本について、次の各文の正誤を判断し、その組み合わせとして正しいものを次から1つ選び、あ～かの記号で答えなさい。

X 日本列島はクリやクルミなどの森におおわれるようになった。

Y 日本列島をとりまく海面は今より高い位置にあった。

Z 日本列島各地には周囲を深い濠で囲まれた集落が形成されていた。

あ X-正 Y-正 Z-正 い X-正 Y-誤 Z-正 う X-正 Y-正 Z-誤

え X-誤 Y-正 Z-誤 お X-誤 Y-正 Z-正 か X-誤 Y-誤 Z-誤

問4 文中の下線部④について、下の空欄（ア）に適当な語を入れ、文章を完成しなさい。

この発見が、日本列島には（ア）時代になるまで人は住んでいなかったとするそれまでの常識をくつがえす意味を持つものである、ということに感激した。

問5 文中の下線部⑤はどこにありますか。次のページの【地 図】中より1つ選び、あ～おの記号で答えなさい。

問6 B・Cはともに文字が記された出土品です。

これらについて、あとの問いに答えなさい。

- (1) Bの空欄（イ）にあてはまる称号を答えなさい。
- (2) Cは板に墨で文字を記したものです。何と呼ばれるものですか。名称を答えなさい。

問7 B・Cに関して、あとの問いに答えなさい。

- (1) Bが出土した場所を下の【地 図】中より1つ選び、あ～おの記号で答えなさい。
- (2) Bの「ワカタケル」について、次の各文の正誤を判断し、その組み合わせとして正しいものを次から1つ選び、あ～かの記号で答えなさい。



裏面には「丁丑年（677年）」と記されている



- X 彼は朝鮮半島の南部を支配する権利を認めてもらうために中国の南朝に使いを送った。
- Y 彼は中国の歴史書に記載のある5人の王のうち「武」と同一人物である、とされている。
- Z 彼が倭国を支配した頃、吉備地方の豪族の中にも大きな前方後円墳を築くものがあつた。

- あ X－正 Y－正 Z－正 い X－正 Y－誤 Z－正
- う X－誤 Y－正 Z－正 え X－誤 Y－正 Z－誤
- お X－誤 Y－誤 Z－正 か X－誤 Y－誤 Z－誤

- (3) Cの発見などにより、「天皇」という称号が定着したのは丁丑（677）年頃であると考えられるようになりました。この頃のことについて述べた文として正しいものを、次から1つ選び、あ～えの記号で答えなさい。

- あ 天智天皇が難波宮で天皇を中心とする政治を行っていた。
- い 日本海側に多賀城が築かれ、東北進出の拠点とされた。
- う 勢力を強めた新羅が朝鮮半島を統一した。
- え 国ごとに産物や伝承などをまとめた『風土記』がつくられた。



【地 図】

問8 Bが製作されてからCに記された677年までの間につくられたといわれているものを次から1つ選び、あ～うの記号で答えなさい。

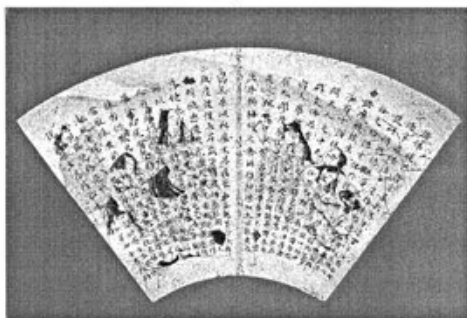
あ



い



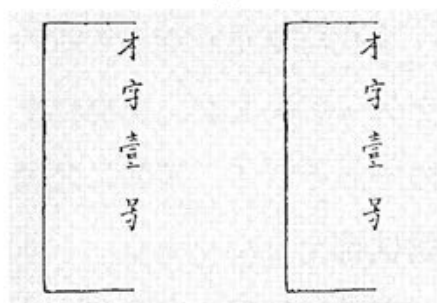
う



D



E



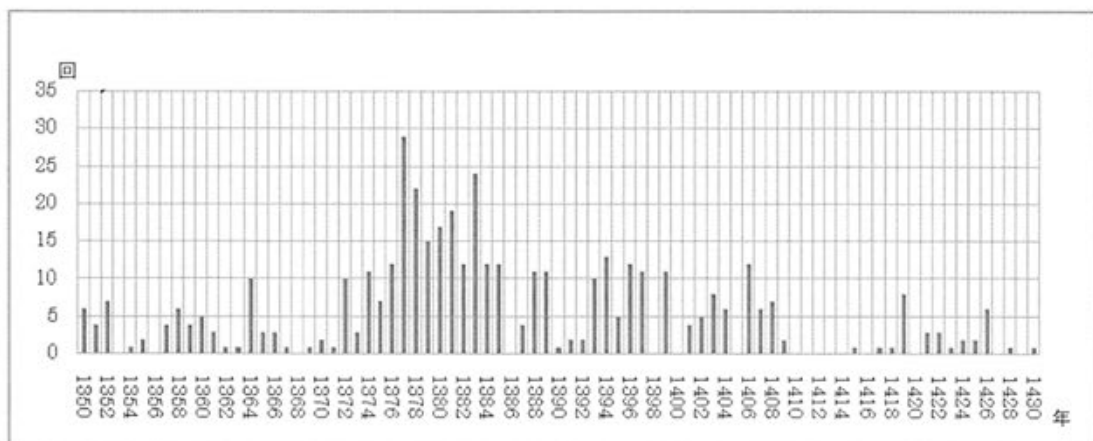
問9 D・Eはともにアジアでの貿易に用いられていた貿易許可証です。これらを用いて行われた貿易について述べた文として正しいものを、次からそれぞれ1つずつ選び、あ～おの記号で答えなさい。

- あ 日本の主な輸出品は、硫黄や生糸など原材料であった。
- い 中国から日本国王として認められた将軍が中国につかえるかたちで行われた。
- う 日本からは大量の銀が輸出された。
- え 将軍から来航を許可されたポルトガル船などが平戸や長崎で貿易を行った。
- お おもな貿易相手国はオランダや清であった。

問10 D・Eが用いられた頃の幕府について正しく述べている文を、次からそれぞれ1つずつ選び、あ～おの記号で答えなさい。

- あ 侍所を置き、京都の軍事・警察・裁判にあたらせた。
- い 有力な守護が執権として将軍を補佐した。
- う 将軍は関白の地位につき、朝廷の権威を利用して大名を支配した。
- え 重要な金山・銀山などを直接支配し、貨幣の鑄造権を握った。
- お 楽市令を出し、都市の商人から営業税を徴収した。

問 11 下のグラフは、朝鮮半島の沿岸で、武装して船団をくみ、貿易を行う一方で米や大豆などの略奪行為を行った集団について、その活動回数を示したものです。このグラフからわかることとして、正しいものを次から1つ選び、あ～えの記号で答えなさい。



(田中健夫氏の著書より作成)

- あ この集団の活動がもっとも活発になった頃、尚氏が三山を統一して琉球王国を建国した。
- い Dが用いられ始めたのは、この集団の活動がもっとも活発になった頃である。
- う 李氏朝鮮が半島を統一した直後の数年間、この集団の活動は一時的にみられなくなった。
- え 日本各地の武士が南朝方と北朝方にわかれて争っていた頃、この集団も活発に活動していた。

4 下の年表を参照し、以下の問いに答えなさい。

a

1792年 ①ラクスマン、(1) に来航する

②1804年 レザノフ、(2) に来航する

b

1855年 日露 (ア) が締結され、国境が画定する

c

1875年 樺太・千島交換条約が締結され、(3) は日本領となる

d

1905年 ③ポーツマス条約が締結され、(4) は日本領となる

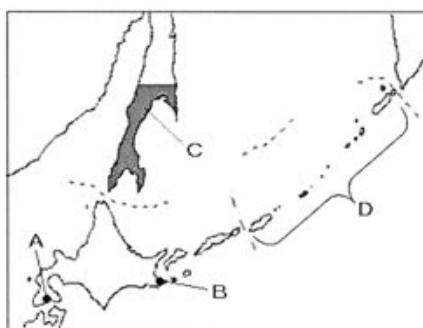
e

④1925年 日ソ (イ) が締結される

f

1951年 ⑤サンフランシスコ平和条約が締結される

⑥1956年 日ソ (ウ) が出される



問1 (1) ～ (4) は地図中のどの位置にあてはまりますか。その組み合わせとして正しいものを1つ選び、あ～えの記号で答えなさい。

あ (1) - B い (2) - A う (3) - C え (4) - D

問2 (ア) ～ (ウ) に入る語の組み合わせとして正しいものを1つ選び、あ～えの記号で答えなさい。

あ (ア) - 基本条約 (イ) - 中立条約 (ウ) - 和親条約

い (ア) - 和親条約 (イ) - 中立条約 (ウ) - 基本条約

う (ア) - 和親条約 (イ) - 基本条約 (ウ) - 共同宣言

え (ア) - 基本条約 (イ) - 和親条約 (ウ) - 共同宣言

問3 下線部①の頃に行われていた寛政の改革の政策として正しいものを1つ選び、あ～えの記号で答えなさい。

- あ 株仲間の解散を命じたり、江戸・大阪周辺の土地を幕府の領地にしようとした。
- い 商工業者の株仲間を増やして税を徴収したり、貿易を拡大した。
- う 新田の開発を奨励し、年貢の取り方を変えたり、法律の整備を行ったりした。
- え 旗本や御家人が商人からしていた借金を帳消しにする一方、政治批判を禁じた。

問4 下線部②のできごととして正しいものを1つ選び、あ～えの記号で答えなさい。

- あ ガンジーが非暴力・非協力・不服従の運動を起こした。
- い マルクスとエンゲルスが「共産党宣言」を出した。
- う 孫文が中華民国臨時大總統に就任した。
- え ナポレオンが皇帝になった。

問5 下線部③について述べた文の正誤を判断し、正しい組み合わせを1つ選び、あ～かの記号で答えなさい。

- X この条約によって得た賠償金をもとにして官営の八幡製鉄所が設立された。
- Y この条約によって獲得した遼東半島と台湾は、三国干渉によって返還させられた。
- Z この条約によって獲得した権益を拡大するために、南満州鉄道株式会社が設立された。
- あ X－正 Y－正 Z－正 い X－正 Y－正 Z－誤 う X－正 Y－誤 Z－誤
- え X－誤 Y－正 Z－正 お X－誤 Y－誤 Z－正 か X－誤 Y－誤 Z－誤

問6 下線部④に選挙法が改正されました。その内容として正しいものを1つ選び、あ～えの記号で答えなさい。

- あ 25歳以上の男子に選挙権が与えられた。
- い 20歳以上の男女に選挙権が与えられた。
- う 直接国税15円以上の納入者に選挙権が与えられた。
- え 直接国税3円以上の納入者に選挙権が与えられた。

問7 下線部⑤について述べた文として正しいものを1つ選び、あ～えの記号で答えなさい。

- あ この条約の締結と同時にアメリカ軍の駐留を認めるとともに、原水爆禁止世界大会が開かれた。
- い アメリカなど48か国とこの条約を結んだが、奄美、小笠原諸島はアメリカに占領されたままであった。
- う 日本はこの条約によって、日清戦争後に獲得した植民地や日露戦争後に獲得した国後島、択捉島に関する権限を放棄した。
- え この条約締結の講和会議に、中国からは毛沢東、台湾からは蔣介石が参加した。

問8 下線部⑥に、日本はある国際組織に加盟しました。日本とその組織との関連について述べた文の正誤を判断し、正しい組み合わせを1つ選び、あ～えの記号で答えなさい。

- X この組織の本部の事務局長として新渡戸稲造が活躍した。
- Y 21世紀になって初めて、日本はこの組織の平和維持活動に参加した。
- あ X－正 Y－正 い X－正 Y－誤
- う X－誤 Y－正 え X－誤 Y－誤

問9 年表中の各時期のできごとについて述べた文として正しいものを1つ選び、あ～えの記号で答えなさい。

- あ 年表中aの時期には、イギリスのワットが蒸気機関を改良し、産業革命が始まった。
- い 年表中bの時期には、世界初の万国博覧会がパリで開かれ、日本からも幕府や薩摩藩が参加した。
- う 年表中cの時期には、シベリア鉄道が全線開通した。
- え 年表中dの時期には、地中海と紅海をむすぶスエズ運河が開通した。

問10 年表中eの時期のできごとを年代順に並べたものとして正しいものを1つ選び、あ～えの記号で答えなさい。

- あ 米騒動発生 → 第1回メーデー開催 → 社会民主党結成 → 大逆事件発生
- い 大逆事件発生 → 青鞥社結成 → 米騒動発生 → 全国水平社結成
- う 社会民主党結成 → 米騒動発生 → 国会期成同盟結成 → 第1回メーデー開催
- え 西南戦争勃発 → 地租改正反対一揆発生 → 米騒動発生 → 日本共産党結成

問11 右の図に関連して、次の各問いに答えなさい。


- (1) 右の図で風刺している事件が起こったのは年表中のどの時期ですか。また、この事件がおこった時の外務大臣はだれですか。次のうち正しい組合せを1つ選び、あ～えの記号で答えなさい。

- あ dー井上馨 い eー井上馨
- う dー小村寿太郎 え eー小村寿太郎



- (2) 右の図の事件をきっかけに、国内で条約改正を要求する声が高まりました。その内容を8字以内で具体的に答えなさい。

問12 年表中fの時期におこなわれたことに関わりのある図を1つ選び、あ～うの記号で答えなさい。



下士官兵ニ告グ
一、全カラデモ運クナイカラ原隊へ歸レ
二、抵抗スル者ハ全部運テアルカラ射殺スル
ニ、オ爾等ノ父母兄弟ハ國賊トナルノデ告グ
ニ、オニヤルヲ
成 殿 司 令 部



問13 右の図は、江戸時代に、ある国から来日した使者の行列や交流の光景を、祭りや踊りの形にして今日に伝えているものです。現在、この国と日本との間で国境問題が発生している地を1つ選び、あ～えの記号で答えなさい。

- あ 竹島 い 尖閣諸島 う 八丈島 え 色丹島



5 下の文を読み、問いに答えなさい。

日本の統治機構は議会制民主主義とA権力分立を基本原則としています。B日本国憲法は、国会・内閣・C裁判所との間に（①）の関係が働くように規定しています。日本国憲法は国政において国会の優位を保障するため、D国会に重要な権限を認めています。

国会は二院制でE衆議院と参議院で構成されています。国会の議決は両院の一致が原則ですが、最終的にはF衆議院の優越が認められています。また、（②）の決議権は、衆議院だけに認められています。

国会は毎年1回（③）に召集される通常国会のほか、いずれかの議院の総議員の（④）以上の要求があった場合に召集される臨時国会、衆議院の解散・総選挙後に召集される特別国会、衆議院解散中に内閣の求めによって開かれる参議院の〔a〕があります。

国政の中心であるG内閣総理大臣は、国会議員の中から国会が指名し、國務大臣の過半数は国会議員でなければなりません。衆議院が（⑤）を可決した場合には、内閣は（⑤）以内に衆議院を解散しないかぎり、総辞職しなければなりません。このような体制を〔b〕制といいます。

問1 文中の〔a〕・〔b〕にあてはまる語句をそれぞれ答えなさい。

問2 文中の（①）～（⑤）にあてはまるものを次より1つ選び、あ～えの記号で答えなさい。

- | | | | |
|---------------|------------|-----------|----------|
| （①）あ 批判と対立 | い 規制と合意 | う 抑制と均衡 | え 制圧と支持 |
| （②）あ 国政調査権の行使 | い 弾劾裁判所の設置 | う 議院規則の制定 | え 内閣不信任案 |
| （③）あ 1月 | い 4月 | う 6月 | え 9月 |
| （④）あ 2分の1 | い 3分の1 | う 3分の2 | え 4分の1 |
| （⑤）あ 10日 | い 14日 | う 21日 | え 30日 |

問3 下線部Aに関連して述べた文の正誤を判断し、正しい組合せを次より1つ選び、あ～えの記号で答えなさい。

X ロックはイギリスの思想家で専制政治を批判し、民主政治を説いた。

Y モンテスキューはフランスの思想家で権力分立の必要性を説いた。

Z ルソーはフランスの思想家で人民主権を説いた。

あ Xー正 Yー正 Zー正 い Xー誤 Yー誤 Zー正

う Xー正 Yー誤 Zー正 え Xー誤 Yー正 Zー誤

問4 下線部Bに関して述べた文の正誤を判断し、正しい組合せを次より1つ選び、あ～えの記号で答えなさい。

X 日本国憲法は99の条文と補則の4か条を加えた103条で構成されている。

Y 日本国憲法の条規に違反する法律・命令は効力をもたない。

Z 日本国憲法は諸外国の影響を受けていない日本独自の憲法である。

あ Xー誤 Yー正 Zー正 い Xー正 Yー正 Zー誤

う Xー正 Yー誤 Zー誤 え Xー誤 Yー誤 Zー正

問5 下線部Cのうち、最高裁判所に関して述べた次の文の（ X ）と（ Y ）にあてはまる語句の正しい組合せを次より1つ選び、あ～えの記号で答えなさい。

最高裁判所長官は、（ X ）の指名にもとづき、（ Y ）が任命することになっている。

- あ X－内閣 Y－天皇 い X－国会 Y－内閣
う X－国会 Y－天皇 え X－内閣 Y－国会

問6 下線部Dにあてはまらないものを次より1つ選び、あ～えの記号で答えなさい。

- あ 法律の制定 い 予算の議決 う 憲法改正の発議 え 政令の公布

問7 下線部Eに関して述べた文として誤っているものを1つ選び、あ～えの記号で答えなさい。

- あ 両議院は、それぞれその総議員の3分の1以上の出席がなければ、議事を開き議決することができない。
い 両議院の会議の記録は、情報公開の原則から、公表が憲法で義務付けられている。
う 両議院の議員が議院で行った演説、討論又は表決について、院外で責任を問われない。
え 国会会期前に逮捕された議員は、その議院の要求があれば、会期中は釈放される。

問8 下線部Fにあてはまるものを1つ選び、あ～えの記号で答えなさい。

- あ 議員歳費の議決 い 参議院議員の任期延長の議決
う 条約の承認 え 公聴会の開催

問9 下線部Gの職務にあてはまらないものを1つ選び、あ～えの記号で答えなさい。

- あ 国務大臣を任命し、罷免する。
い 国会議員の総選挙の施行を公示する。
う 行政各部を指揮監督する。
え 内閣を代表して議案を国会に提出する。

6 下の文は私と兄との会話です。これを読み、問いに答えなさい。

私：「A 第二次世界大戦後の日本の経済は、B 1950 年代から 70 年代前半までの高度成長期、C 1970 年代後半から 80 年代前半までの安定した経済成長期、1980 年代後半からのバブル経済とよばれる状況を経て、1991 年にはバブルが崩壊し、不況となりましたね。景気が悪くなれば、D 財政支出を増やせばいいのではないですか。」

兄：「最近の日本は財政赤字が続いているので、安易に E 財政支出はしないね。」

私：「今後の日本経済を考えると、どのような課題がありますか。」

兄：「まずは、F 社会保障と関連する少子化問題です。外国人労働者の増加も考えられます。今後は日本の労働者の意識も大きく変化すると思います。」

問 1 下線部 A の好景気について、発生した順に正しくならべたものを次より 1 つ選び、あ～うの記号で答えなさい。

- あ 神武景気 → 岩戸景気 → オリンピック景気 → いざなぎ景気
い いざなぎ景気 → オリンピック景気 → 岩戸景気 → 神武景気
う 岩戸景気 → いざなぎ景気 → 神武景気 → オリンピック景気

問 2 下線部 B に関して、この期間のできごとについて述べた文の正誤を判断し、正しい組合せを次より 1 つ選び、あ～えの記号で答えなさい。

X 1956 年、湯川秀樹がノーベル賞を受賞した。

Y 1969 年、GNP が全世界で第二位になった。

あ X-正 Y-正 い X-誤 Y-誤

う X-正 Y-誤 え X-誤 Y-正

問 3 下線部 C に関して、この期間のできごとを次より 1 つ選び、あ～えの記号で答えなさい。

あ チェルノブイリ原子力発電所事故 い 消費税導入

う 第二次石油危機 え 沖縄返還

問 4 下線部 D の役割にあてはまらないものを次より 1 つ選び、あ～えの記号で答えなさい。

あ 公共サービスの提供 い 所得の再分配 う 金融機関の育成 え 景気の調整

問 5 下線部 E に関連して、下の表は 2008 年度の国のおもな歳出です。b 費・c 費にあてはまるものを次よりそれぞれ 1 つずつ選び、あ～おの記号で答えなさい。

a 費	b 費	c 費	d 費	e 費
26.2 %	24.3 %	18.8 %	8.1 %	8.1 %

あ 公共事業関係費 い 国債費 う 地方財政関係費

え 文教および科学振興費 お 社会保障関係費

問 6 下線部 F に関して述べた文の正誤を判断し、正しい組合せを次より 1 つ選び、あ～えの記号で答えなさい。

X 管内閣は 0 歳から 15 歳の子供に一律 26,000 円を給付する「子供手当法」を成立させた。

Y 日本国憲法第 25 条にもとづいて整備された社会保障は、4 つの柱からなっている。

あ X-正 Y-正 い X-誤 Y-正

う X-正 Y-誤 え X-誤 Y-誤